
DEEL 3.4

DE EURO

3.4. DE EURO

DOEL

- De leerlingen/cursisten ontdekken de voordelen van het gebruik van de eenheidsmunt: wisselen van geld is niet meer nodig, je spaart een hele hoop wisselkosten uit, je hoeft geen prijzen meer om te rekenen,...
- De leerlingen/cursisten weten welke landen de euro al invoerden en welke nog niet.

A. ACHTERGRONDINFORMATIE

1. Basistekst voor de docent

Om de interne markt - het vrije verkeer van goederen, diensten, personen en kapitaal dat in het begin van de jaren '90 ontstond - maximaal te laten renderen moest er op monetair vlak meer eenheid komen. In 1992 beslisten de staats- en regeringsleiders van de EU-lidstaten in Maastricht om een Economische en Monetaire Unie (EMU) op te richten. Ze zouden dus hun economisch beleid op elkaar afstemmen, een gemeenschappelijke munt invoeren en het monetaire beleid in handen geven van de Europese Centrale Bank. De euro betekende op die manier de kroon op het economische integratieproces dat al in 1951 van start was gegaan.

Landen die in de EMU wilden stappen, moesten in de eerste plaats aan bepaalde (economische) voorwaarden voldoen. Die voorwaarden zijn beter bekend als de Maastrichtnormen. Die normen hielden in dat de landen over een gezonde economie moeten beschikken. 12 landen werden geselecteerd. Denemarken, Zweden en Groot-Brittannië lieten weten dat hun bevolking de euro niet zag zitten. Voorlopig doen zij niet mee. Ook de nieuwste lidstaten blijven voorlopig buiten de EMU. Zij moeten eerst aan alle voorwaarden voldoen vooraleer zij de euro mogen invoeren. Slovenië voldoet wel al. Zij konden dan in 2007 de euro invoeren. Cyprus en Malta volgen in 2008.

Vanaf 1999 kon de euro al gebruikt worden voor girale betalingen. Sinds januari 2002 zijn de euromunten en -biljetten in omloop.

2. Toetsen van de kennis

- Wanneer is de euro ingevoerd? Waarom?
- Wat zijn de voordelen van de euro? Wat zijn de nadelen?
- Kijk eens in je portefeuille. Hoeveel verschillende euromuntstukken bestaan er? Weet je ook hoeveel verschillende eurobiljetten er zijn? Welke waarde hebben ze?

- Ken je de munteenheid van de Verenigde Staten? En van Japan?
- Hoeveel oude Belgische frank is een euro ongeveer waard?
- In welke landen kan je met de euro betalen? Kan je in de hele EU met de euro betalen? In welke Europese landen kan je niet met de euro betalen? Zijn er landen buiten de EU waar de euro ook het officiële betaalmiddel is?
- Zonder te kijken: wat staat er op de euro-munten afgebeeld? Is dat voor elk land hetzelfde? En wat staat er allemaal op de biljetten? Is dat in elk land hetzelfde?

B. OPDRACHTEN

1. Basisopdrachten

Opdracht 3.17: Tekst met vragen rond de invoering van de euro.

Door de invoering van de euro op 1 januari 2002 zijn een heel pak zaken een stuk eenvoudiger geworden. Als je vroeger op reis ging naar Frankrijk, of gewoon een dagje naar Nederland ging, moest je er steeds voor zorgen dat je op voorhand bij de bank was langsgegaan. In Nederland betaalde men immers met de gulden, in Frankrijk met de Franse frank en in België natuurlijk met de Belgische frank.

Door de invoering van de euro is het eenvoudig: iedereen betaalt gewoon met de euro. Op vakantie gaan is een stuk gemakkelijker. Nu hoef je niet meer om te rekenen hoeveel die leuke t-shirt op Kreta eigenlijk kost in je eigen munteenheid. Ook het betalen van wisselkosten is nu verleden tijd.

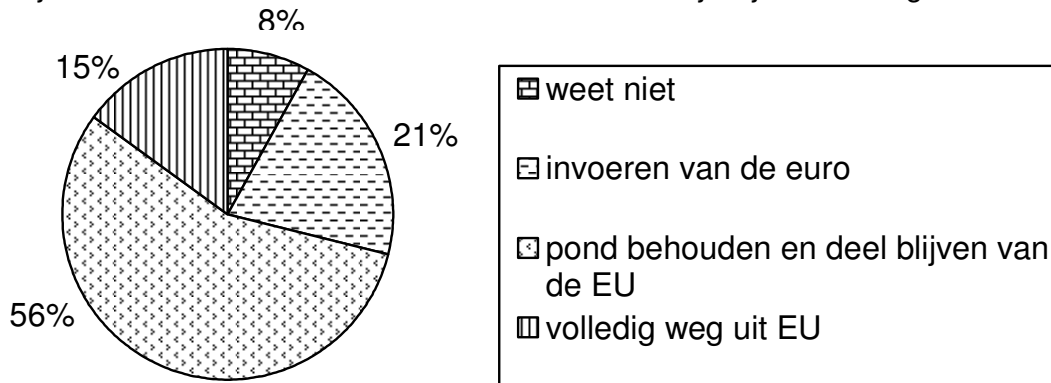
Bedrijven zijn al helemaal tevreden met de invoering van de euro. Een bedrijf dat chocolade uitvoert, moest vroeger zeker tien verschillende prijslijsten hebben voor al de landen in Europa waar ze leverden. Nu volstaat één prijslijst. Veel gemakkelijker. Ze hebben een groot gebied om zaken te doen. Een grote zone zonder grenzen en met hetzelfde geld.

Ten slotte heeft de euro er voor gezorgd dat we ons een beetje meer Europeaan voelen. Als je naar Nederland inkopen gaat doen, merk je nog nauwelijks dat je de grens oversteekt en we betalen bovendien met hetzelfde geld!

- Som de voordelen van de invoering van de euro op.
- Kan je ook enkele nadelen noemen?
- Vroeger had elk land in Europa zijn eigen munteenheid. Als we dus naar een ander land reisden, moesten we telkens onze Belgische frank omwisselen in een andere munt. Toch was er één land dat dezelfde munt had als wij. Welk?
- Wanneer is de euro ingevoerd?

Opdracht 3.18: Tegenstand tegen de euro in Groot-Brittannië.
















Hoeveel Britten zijn voor de EU en voor het behoud van de pond? Op deze grafiek zie je wat de Britten denken over de euro. Waarom zijn zij zo sterk tegen de euro?



Opdracht 3.19: De EU-landen die de euro invoerden: munten- en kaartopdracht.

1. Hieronder zie je munten uit eurolanden. Plaats het juiste land onder de juiste munt.

Kies uit: België, Nederland, Luxemburg, Frankrijk, Duitsland, Italië, Ierland, Finland, Spanje, Slovenië, Portugal, Oostenrijk, Griekenland.

		
1.	2.	3.
		
4.	5.	6.
		
7.	8.	9.
		
10.	11.	12.
		
13.	14.	15.

2. Plaats op de blinde kaart een euro-teken in de vijftien EU-landen die in 2008 de euro hebben ingevoerd. **Zie bijlage 8.**

2. Extra opdrachten

Opdracht 3.20: Waar is de euro de officiële munt?

In 2008 zullen vijftien van de vijftientig EU-lidstaten de euro als officiële munt hebben. Je vindt hierbij drie reeksen van landen. Schrap telkens het land dat de euro nog niet invoerde. Weet je hoe de munt van dat land heet?

1.	België	Frankrijk	Groot-Brittannië	Duitsland
2.	Italië	Spanje	Denemarken	Ierland
3.	Zweden	Finland	Nederland	Luxemburg

Opdracht 3.21: De munten van de andere EU-lidstaten.

De meeste nieuwe lidstaten voerden de euro nog niet in. Ze behielden hun eigen nationale munt. Verbind de naam van de munt met het land waar ze gebruikt wordt.

Polen
Tsjechië
Slovakije
Hongarije
Estland
Letland
Litouwen
Roemenië
Bulgarije

Forint
Estse Kroon
Lat
Zloty
Slovaakse Kroon
Leu
Tsjechische Kroon
Litas
Lev

Opdracht 3.22: Juist/fout stellingen rond de euro.

Zijn de volgende stellingen juist of fout?

1. De ontwerper van het euroteken is een Fin.	
2. De ontwerper van de voorzijde van de euromuntstukken is een Belg.	
3. In Griekenland voerde men nooit de stukjes van één en twee eurocent in.	
4. In Vaticaanstad betaalt men nog steeds met de Italiaanse lire.	
5. In Bosnië-Herzegovina is de euro de officiële munt, ook al is Bosnië-Herzegovina geen lid van de Europese Unie.	

6. Op de Franse euromunten staat hun nationale slogan: "eerlijkheid, vrijheid en broederschap."	
7. Op de Griekse munt staat een uiltje omdat de uil het symbool van Athene is.	
8. Er zijn acht euro-muntstukken.	
9. Er zijn slechts vijf eurobiljetten.	
10. In Groot-Brittannië, Zweden en Finland is de euro <u>niet</u> de officiële munt.	

3. Geef je mening

- Voel je je minder Belg omdat we niet langer met de Belgische frank betalen? En voel je je meer Europeaan sinds de invoering van de euro?
- Vind je dat elk land dat tot de Europese Unie toetreedt verplicht de euro moet invoeren? Of heb je er geen problemen mee dat bvb. Groot-Brittannië de euro niet wil invoeren?
- Mogen arme landen die tot de EU toetreden ook de euro invoeren?
- Nu is de voorzijde van de euromunten in alle landen gelijk en de achterzijde verschilt van land tot land. Vind je dat dit zo mag blijven of moet ook de achterzijde overal identiek zijn? Vind je de eurobiljetten geslaagd of zou je er wat anders op geplaatst hebben? Wat?
- Vond je de overgang naar de euro moeilijk? Zou je nog terug willen naar de Belgische frank?

4. ICT-opdrachten

- Zoek op het internet de website van de Europese Centrale Bank. Waar is die gevestigd? Aan welke rivier ligt die stad? Wie is momenteel de voorzitter van de ECB?
- Zoek de volgende wisselkoersen tegenover de euro op: de Amerikaanse dollar, de yen, de Zwitserse frank, de Britse pond en de Poolse zloty.

C. OPLOSSINGEN

Opdracht 3.17: Tekst met vragen rond de invoering van de euro.

1. Gemakkelijker om te reizen en te betalen in het buitenland. Geen wisselkosten meer. Bedrijven kunnen makkelijker handel drijven met de andere eurolanden. Groter Europees gevoel.
2. De prijzen zijn gestegen. Voor oudere mensen was het moeilijk om zich aan te passen.
3. Luxemburg.
4. Sinds 1 januari 2002 kunnen we met euromunten- en biljetten betalen.

Opdracht 3.18: Tegenstand tegen de euro in Groot-Brittannië.

De Britten zijn bang dat ze hun nationale eigenheid zouden verliezen als ze de euro zouden invoeren. Bovendien hebben ze schrik dat alles duurder zal worden (inflatie).

Opdracht 3.19: De EU-landen die de euro invoerden, aan de hand van de munten en een kaartopdracht.

1. België, 2. Duitsland, 3. Griekenland, 4. Finland, 5. Frankrijk, 6. Ierland, 7. Italië, 8. Luxemburg, 9. Nederland, 10. Oostenrijk, 11. Portugal, 12. Spanje, 13. Slovenië, 14. Malta, 15. Cyprus

Opdracht 3.20: Waar is de euro de officiële munt?

1. Groot-Brittannië: Britse pond.
2. Denemarken: Deense kroon.
3. Zweden: Zweedse kroon.

Opdracht 3.21: De munten van de andere EU-lidstaten.

Polen	→	Zloty
Tsjechië	→	Tsjechische Kroon
Slovakije	→	Slovaakse Kroon
Hongarije	→	Forint
Estland	→	Estse Kroon
Letland	→	Lat
Litouwen	→	Litas
Roemenië	→	Leu
Bulgarije	→	Lev

Opdracht 3.22: Juist/fout stellingen rond de euro.

1. Fout. Het is een Belg, namelijk: Alain Billiet.
2. Juist. Zijn naam is Luc Luyckx.
3. Fout. Finland voerde nooit de stukjes van één en twee eurocent in.
4. Fout. Zij betalen ook met de euro.
5. Juist.
6. Fout. Er staat: gelijkheid, vrijheid en broederschap.
7. Juist.
8. Juist.
9. Fout. Er zijn 7 eurobiljetten.
10. Fout. In Finland is de euro wel de officiële munt.

D. DOE-MOGELIJKHEDEN

- Ontwerp een eigen eurobiljet.
- Breng een bezoek aan een bank. Vraag de mensen die er werken hoe zij de invoering van de euro ervaren hebben. Zijn er nog veel van hun klanten die moeite hebben met de euro?